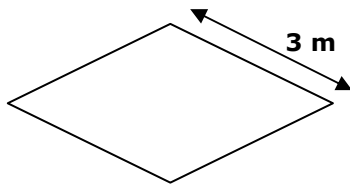


3. Het bloemperkje in de tuin heeft de vorm van een ruit.
 Papa wil er een omheining rond plaatsen.
 Stel bij deze opdracht zelf een vraag die je kan oplossen.



- vraag: _____
- oplossing: _____



4. Een vakantiecentrum heeft per week 1550 kilogram aardappelen nodig.
 Schat hoeveel kilogram dat ongeveer per dag is kg

Noteer welke weg je hierbij volgde.

- ⌘ $2800 : 7 = \dots\dots\dots$
- ⌘ $1400 : 7 = \dots\dots\dots$
- ⌘ $1550 : 5 = \dots\dots\dots$



Zal het méér zijn dan jouw schatting of minder ?



Naam :

5. Binnenkort gaan we op schoolreis naar Technopolis.
Graag willen we er aankomen om 10 uur.
Onze school ligt op 150 km van Technopolis.
De bus rijdt gemiddeld 75 km per uur.
Wanneer moeten we ten laatste op school vertrekken ?

Antwoord: _____



6. Op de bus naar Technopolis zitten 45 kinderen. Er gaan ook 3 leerkrachten mee.

Technopolis 2007	
<i>Toegangsprijzen</i>	
<u>School- en jeugdgroepen</u> (vanaf 14 betalende personen)	
per deelnemer (3 t.e.m. 18 jaar)	€ 5,20
1 begeleider per 15 deelnemers	gratis
Volwassenen	€ 8,90

Hoeveel moet er betaald worden voor de kinderen ? € _____


Hoeveel moet er betaald worden voor de leerkrachten ? € _____

Hoeveel bedraagt de toegangsprijs voor de hele groep ? € _____



7. In de klas van Leen zijn er 21 kinderen.
 Voor haar verjaardag wil ze trakteren met fruitspiesjes.
 Met 1 appel, 1 banaan en 1 kiwi kan ze 3 spiesjes maken
 Leen wil berekenen hoeveel zij nodig heeft.

Maak hier een tekening



Leen heeft appelen nodig.
 Leen heeft bananen nodig.
 Leen heeft kiwi's nodig.

8. Vader kocht deze tweedehandsauto voor 4462 euro. Hij denkt nog enkele jaren met deze wagen te kunnen rijden. Jaarlijks legt vader 15000 km af.



Kilometerteller 46 400 km

Welke vraag kan je hier niet oplossen ?
 Kruis ze aan en los de 2 andere vragen wél op.

Hoeveel km zullen op de kilometerteller staan als we 2 jaar verder zijn ?

Hoeveel kost de auto nieuw ?



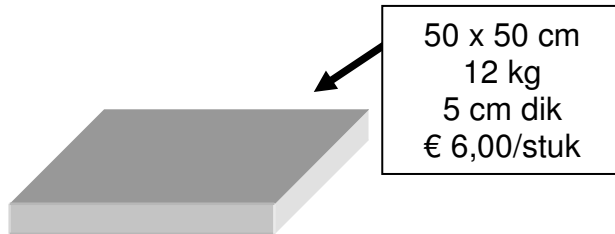

Als vader 275 euro korting kreeg, hoeveel was dan de oorspronkelijke prijs ?



Naam : _____

9. Onze buurman legt een nieuw terras in natuursteen aan.
Vooraf maakte hij een schets van het terras

Welke gegevens heb je niet nodig om te weten hoeveel het terras zal kosten.
Doorstreep ze.



Hoeveel zal hij voor de natuursteen betalen als hij twee tegels te veel neemt ?

Antwoord: _____