



Naam :



1.

Vul de observatiefiche van de kleine watersalamander aan.

Gebruik uw bronnenblad en omschrijf zo nauwkeurig mogelijk.

De kleine watersalamander:

Kop: _____

Buik: _____

Voortplanting: _____



2.

a. Vervolledig de identiteitskaart.

Naam: RODE MUGGENLARVE

Hoe ziet het dier er uit? _____

Wat eet het dier? _____

Geef 2 vijanden van het dier? _____

Waar leeft het dier? _____

b. De rode muggenlarve is de larve van de _____.

De muggen behoren tot de orde van de : * gewervelden / ongewervelden *

We kunnen ze verder onderverdelen bij de : * wormen / insecten / spinnen *

* schrap wat fout is

c. Vul de ontwikkelingscyclus aan.

dansmug - eitjes - _____ - _____ - dansmug



3.


Classificeer de dieren bij de juiste orde:

wilde eend - kleine watersalamander - snoek - blauwe reiger -
bruine kikker - stekelbaars - dansmug

Gewervelden

Vissen: _____

Amfibieën: _____

Reptielen: _____

Vogels: _____

Zoogdieren: _____



4.


In het bronnenblad lees je heel wat over de soorten **waterplanten**.
Bij welke soort waterplanten delen we de waterlelie in?

Bij de _____



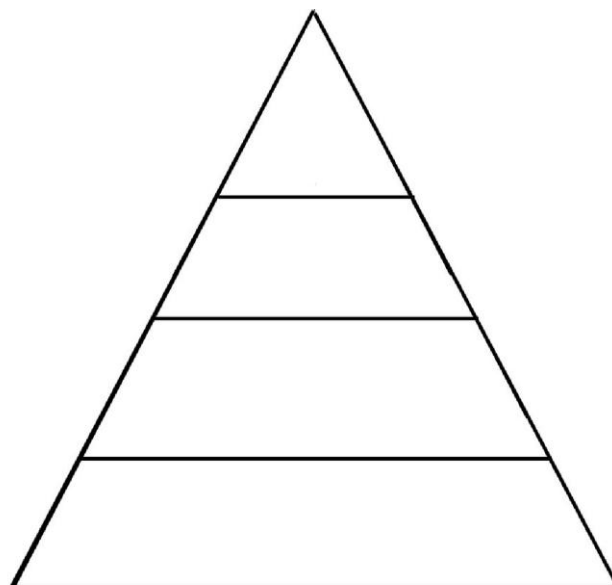
5.


Op een poel of sloot treffen we heel wat **eendens**oorten aan.
De wilde eend is de meest voorkomende.
Kan je uitleggen hoe de eend als vogel aangepast is om op het water voort te bewegen?



6.


Stel aan de hand van het bronnenblad een **voedselketen** samen.



7. **Mijn lichaam**

Je loopt 2 rondjes op de speelplaats.
Welke veranderingen merk je aan je lichaam?

Geef er 2.

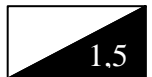
- _____
- _____



8. **Muntstuk oprapen**

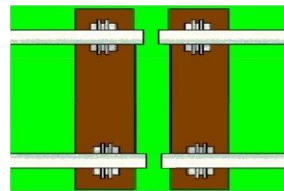
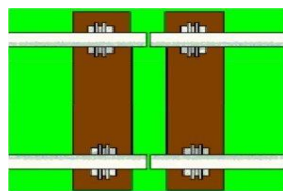
Ik zie een muntstuk op de grond liggen. Ik wil het oprapen.
Hierbij komt mijn lichaam in actie.
Omkring welke lichaamsdelen in werking treden:

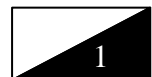
oren - ogen - hersenen - longen - spieren - maag



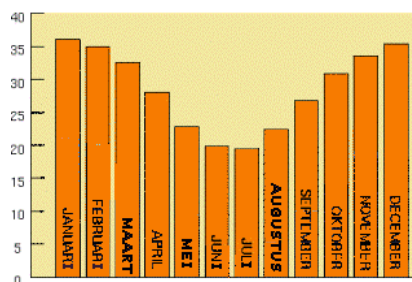
9. **Treinsporen**

Plaats **zomer** - **winter** op de juiste plaats onder de tekening.





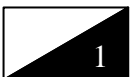
10. **Klimaat**



gemiddelde dagtemperatuur

Bij welk land hoort deze grafiek? Omkring.

België - Spanje - Australië - Rusland



11. **Sorteren : "Gooi het afval op de juiste plaats!"**


blikje - mayonaisepot met metalen deksel - bananenschil - verfspuitbus

Noteer de voorwerpen onder de juiste bak!



2,5

12. **Gezond en evenwichtig ontbijten!**



Omkring wie het meest en **schrap** wie het minst evenwichtig eet!

Jan: eet een kommetje ontbijtgranen met melk.

Lotte: eet een boterham met kaas en drinkt thee; ze besluit met een stukje fruit.

Bart: eet een bruine boterham met een eitje en drinkt een glas melk.

1

13. **Aarde, zon en maan** (praktische proef)

Voor je ligt een voetbal, een tennisbal en een pingpongballetje.

a. Welke bal stelt de aarde, de zon en de maan voor?

b. Toon hoe dag en nacht ontstaan!

2