

Naam : _____



1. Volg het weer. Noteer van het weer vandaag:

- a. Temperatuur in °C:.....
- b. Soort neerslag:.....
- c. Windrichting:.....
- d. Windkracht:
- e. Bewolking:



2. Een experiment met de fles, de ballon en de kaars.



Wat doen we ?

Neem een lege glazen fles met een niet al te brede hals en span een ballon aan de flessenhals.

Sluit de verbinding goed af met een elastiekje.
We plaatsen de fles boven de kaars (we verwarmen dus de fles)
en kijken wat er gebeurt.

- a. Schrijf op wat er zal gebeuren als de fles verwarmt (dus voor de proef)
.....
- b. Schrijf op wat er gebeurt als de fles wordt verwarmd.
.....
- c. Hoe komt dit? (kleur het juiste antwoord)
- Door de warmte ontstaat wind in de ballon.
 - Door de warmte krimpt de lucht in de ballon.
 - Door de warmte zet de lucht uit in de ballon.
 - Door de warmte condenseert de lucht in de ballon.

3. Hoe komen deze vier dieren de winter door ?
Trek lijnen tussen de woorden die bij elkaar horen.

2

egel	.	.	vogeltrek
hert	.	.	wintervacht
pad	.	.	winterslaap
zwaluw	.	.	wintervoorraad



4. Om de afvalberg te verminderen kunnen we verschillende dingen doen. Hieronder vind je enkele ideeën. Schrijf er zelf nog een voorbeeld bij.

3

Afval sorteren om te **recycleren** :

Van beschreven papier wordt nieuw papier gemaakt.

-

Materialen **hergebruiken**:

- Ik gebruik batterijen die ik opnieuw kan opladen.

-

Afval **vermijden**:

- Ik koop koekjes die niet afzonderlijk verpakt zijn.

-

5. Een rups heeft dezelfde kleur als het blaadje waarop zij leeft. Waarom is dat zo ? Kruis het goede antwoord aan.

1

Zo is zij beter beschermd tegen de zon.

Zij heeft een schutkleur. De dieren die haar willen opeten, kunnen haar moeilijk vinden.

Met haar mooie groene kleur kan zij gemakkelijk een andere rups lokken.



Naam : _____

6. Welke zin is juist ? Zet een kruisje.

- De aarde draait rond de zon, zo kennen we dag en nacht.
- De zon draait rond de aarde, zo kennen we dag en nacht.
- De aarde draait om haar eigen as, zo kennen we dag en nacht.
- De zon draait om haar eigen as, zo kennen we dag en nacht.



1

7. Na school moet je je kunnen ontspannen om de volgende dag weer fit te zijn.

Hier zie je een schema van 3 kinderen. Wie neemt er de beste ontspanning ?
Kleur de naam van de persoon.

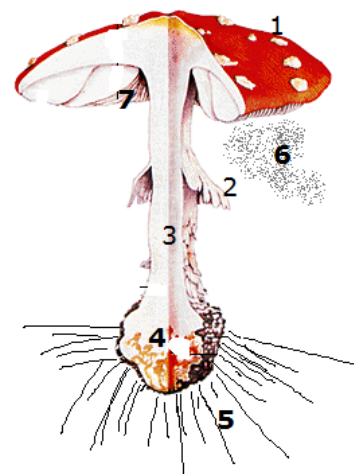
	Lotte	Jonas	Sharon
16.30u.- 18.00u.	brood halen met de fiets	sportberichten lezen in de krant	chatten
16.45u.- 18.00u.	tv-kijken	tv-kijken	samen met mama boodschappen doen
18.00u.- 19.30u.	eten en dan naar turnclub	eten en dan surfen op internet	eten en tv kijken
19.30u.- 20.00u.	krant lezen	stripverhalen lezen	DVD bekijken
20.00u.	naar bed	naar bed	naar bed

1





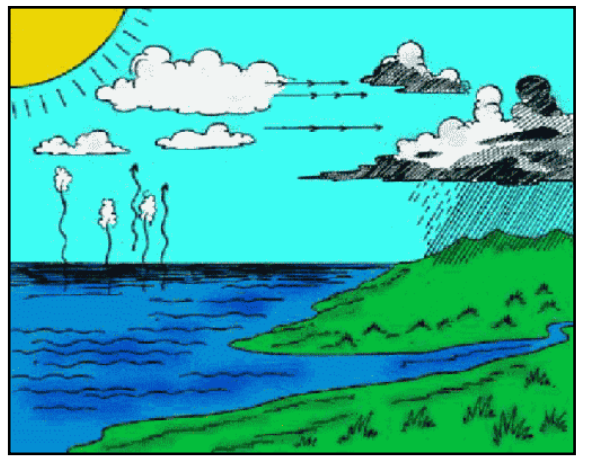
8. Duid op tekening de delen van de paddenstoel aan.

Kies uit: hoed – buisjes of plaatjes – knol – sporen – zwamvlok

- 1. hoed
- 2. kraag
- 3. steel
- 4.
- 5.
- 6.
- 7.



2

9.	<p>Onze school wordt in de winter verwarmd.</p> <p>Welke energiebron wordt hiervoor gebruikt?</p> <p>Kies uit: elektriciteit, aardgas, stookolie, steenkool, hout .</p> <p>.....</p>	
10.	<p>Welk nummer bel je best wanneer het brandt of wanneer er een ongeval gebeurd is ?</p> <p>.....</p>	
11.	<p>Meneer Deroo is uit de boom gevallen met een zaagmachine en 3 mensen bellen de hulpdiensten op.</p> <p>Wie geeft de beste informatie door? Zet een kruisje.</p> <p><input type="checkbox"/> Buurman :</p> <p>Hallo mijn naam is Stef Pauwels, mijn buurman is uit een boom gevallen met zijn zaagmachine. Hij heeft veel pijn en hij roept de hele tijd om hulp. Ik ga vlug neerleggen.</p> <p><input type="checkbox"/> Buurvrouw aan de overkant van de straat:</p> <p>Hallo, mijn naam is Trees Vandaele. Mijn buurman aan de overkant van de straat, Danny Deroo, is uit een boom gevallen. Hij kan niet meer bewegen. Ik woon in de Kattenstraat nr. 17.</p> <p><input type="checkbox"/> Zoon:</p> <p>Hallo, mijn papa is uit de boom gevallen met een zaagmachine. Hij heeft veel pijn en ik weet niet wat ik moet doen. Wij wonen juist naast de school.</p>	
12.	<p>Zet een kruisje voor de meest passende uitspraak:</p> <p><input type="checkbox"/> Water verdampt door de zonnewarmte en vormt wolken. Als wolken afkoelen, ontstaat er neerslag.</p> <p><input type="checkbox"/> De wind blaast wolken naar het land. Eenmaal aan land worden de wolken warmer en komt er neerslag uit.</p> <p><input type="checkbox"/> Door de koude verdampt het zeewater en vormen er zich wolken die over het land uitregenen.</p>	 

Naam : _____

13. De koolmees past niet in de reeks.
Vul het ontbrekende woord hier in:

1

Dieren met pels

Dieren met pels

Dieren met pels

Dieren met



1 reebok



2 vleermuis



3 konijn



4 koolmees

14. Gezond leven betekent gezond ontbijten.

2

Kijk naar de voedingsdriehoek.

Schrijf op wat jij zou eten om gezond en evenwichtig te ontbijten.

Schrijf 4 zaken op.

.....



15. Trek een kruis door 3 zaken die onveilig zijn.

1,5



Naam : _____

16. Sorteren van afval: trek een pijl van het afval naar de juiste vuilnisbak.

2

